



LICEUL TEORETIC "BOLYAI FARKAS" ELMÉLETI LÍCEUM  
TÎRGU MUREȘ MAROSVÁSÁRHELY  
540064  
STR. BOLYAI NR. 3  
Telefon/Fax/0365-882749, 0365-882748  
E-mail: bolyai@bolyai.ro



MINISTERUL EDUCAȚIEI



**Concursul Național Multidisciplinar „BOLYAI FARKAS”  
al liceelor cu clase de predare în limba maghiară, ediția a XVII-a  
Târgu-Mureș, 10 – 12 mai 2024**

**XVII. BOLYAI FARKAS MULTIDISZCIPLINÁRIS ORSZÁGOS TANTÁRGYVERSENY**

**„HISTORIA NOSTRA” TÖRTÉNELEM TANTÁRGYVERSENY  
A tantárgyverseny témája: AZ ANJOUK ÉS LUXEMBURGI ZSIGMOND KORA  
II. Forduló – Országos szakasz  
Marosvásárhely, 2024. május 10–12.**

**FIGYELEM!** Minden tétel kötelező. Hivatalból 10 pont jár. Munkaidő 3 óra.

**FELADATLAP**

**1. Egészítse ki az Anjou dinasztia hatalomra kerüléséhez kapcsolódó szöveg hiányzó részeit (fogalmak, nevek, évszám, szám, terület)! (Elemenként 0,5 pont, összesen 10 pont)**

..... halálával .....-ben férfiágon kihalt az  
.....-ház, és a magyar királyság jövője egyszeriben bizonytalanná vált. A következő  
éveket gyakran szokták az ..... szóval jelölni, ami „királyközi” állapotot,  
király nélküli időszakot jelent. A név nem igazán találó, mert az országnak volt királya, több is, mint  
kellett volna, s voltak még emellett „kiskirályok” is, akiket ma .....-nak  
szokás nevezni. Az üresen maradt trónért ..... trónjelölt küzdött. Egyikük, a  
későbbi ..... IV. Béla leszármazottja volt, .....-ból érkezett  
Magyarországra. Családja arról a francia .....tartományról kapta a nevét, ahonnan  
származott. Támogatóinak egy kis csapata ..... tavaszán Esztergomba kísérté és egy  
..... koronával gyorsan megkoronázta. Az első koronázását még további .....  
követte, mert csak az utolsó felelt meg minden előírásnak. Vele szemben II. Vencel .....  
király ..... nevű fiát és örökösét hívták meg a trónra, és őt is .....  
augusztusában megkoronázták. Uralkodása azonban csak névleges maradt. A harmadik trónjelölt  
..... bajor herceg, a Wittelsbach-család tagja, akit .....decemberében  
szintén megkoronáztak. A magyar előkelők azonban meglehetősen közömbösen fogadták, és miután  
kiszabadult ..... erdélyi vajda fogságából, elhagyta Magyarországot. Így  
.....-re ..... maradt az egyedüli magyar király.



2. A felsorolt tartományurak közül kinek a birtokában volt a Szent Korona? Karikázza be a helyes válasz betűjelét! (1 pont)



- a) Borsa Kopasz
- b) Aba Amadé
- c) Csák Máté
- d) Kán László

3. A térkép-vázlat és ismeretei segítségével oldja meg a középkori Magyarország (14-15. század) gazdaságával kapcsolatos feladatokat! (Elemenként 1 pont, összesen 4 pont)



Bányák és kamarák Magyarországon a 14. század első felében



**a) Nevezze meg azt az uralkodót, akinek intézkedései ösztönözték a térképvázlaton szereplő bányák megnyitását!**

.....

**b) Nevezze meg azt az ásványkincset, amelyre a leírás vonatkozik! A térképen szereplő ásványkincsek közül válasszon!**

A középkorban értékesnek számító ásványkincs, amelynek magyarországi bányászata jellemzően Erdélyben folyt. Bányászata a király kizárólagos joga volt, kitermelését a kifejezetten erre a célra létrehozott kamarák székhelyein működő hivatalok felügyelték.

.....

**c) Mely árucikkek kereskedelme volt jellemző a felsoroltak közül a térképvázlaton az 1. sorszámú nyíllal jelzett útvonalon? Karikázza be a helyes válasz betűjelét!**

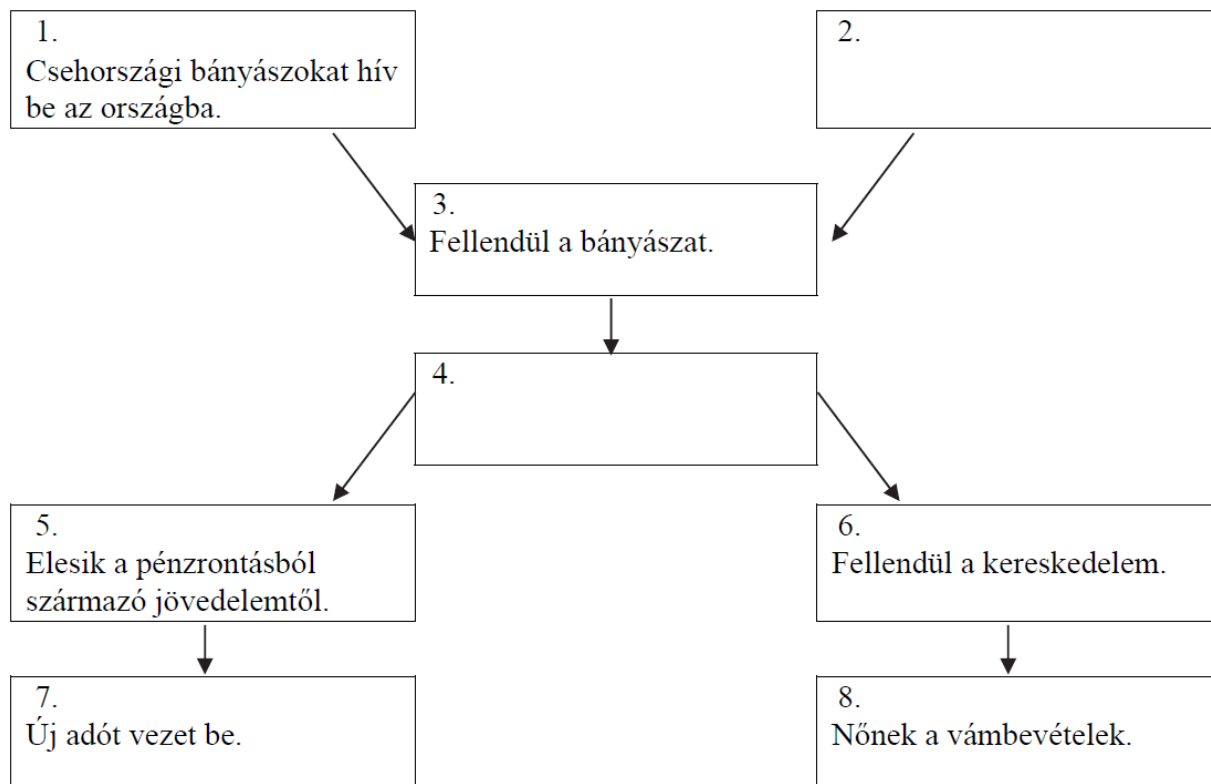
- A) nemesfém, szarvasmarha, bor
- B) fűszerek, selyem, rabszolga
- C) fémáru, fegyver, posztó

**d) Mely árucikkek kereskedelme volt jellemző a felsoroltak közül a térképvázlaton a 2. sorszámú nyíllal jelzett útvonalon? Karikázza be a helyes válasz betűjelét!**

- A) gabona, viasz
- B) posztó, fegyver
- C) nemesfém, luxuscikkek



**4. Oldja meg az ábra és ismeretei segítségével az I. Károly (Róbert) gazdasági reformjaihoz kapcsolódó feladatokat! (Elemenként 1 pont, összesen 5 pont)**



*I. Károly (Róbert) gazdasági reformjai  
(Az ábrában szereplő nyilak ok-okozati összefüggéseket jelölnek.)*

**a) Mely intézkedés hiányzik az ábra 2. számmal jelzett mezőjéből? Írja a választ a pontozott vonalra!**

.....

**b) Mely intézkedés hiányzik az ábra 4. számmal jelzett mezőjéből? Írja a választ a pontozott vonalra!**

.....

**c) Nevezze meg a 7. számú mezőben szereplő uralkodói bevételt!**

.....

**d) Melyik mező szövege utal közvetlenül a „harmincad”-ra? A mező sorszáma: .....**

**e) Melyik mező szövege utal a „hospes”-ekre? A mező sorszáma: .....**



**5. A feladat I. (Nagy) Lajos kormányzatához kapcsolódik. Oldja meg a feladatokat a forrás és ismeretei segítségével! (Összesen 5 pont)**

„Legkedvesebb ösüinknek és elődünknak, András király úrnak előbb említett [...] oklevelét, a benne leírt minden szabadsággal együtt elfogadván, magunkévá tevén és jóváhagyván kivéve egyedül ugyanazon kiváltságlevélből az előbb említett módon kirekesztett egyetlen cikkelyt. [...] Éppen ellenkezőleg: egyáltalán ne legyen joguk ezt megtenni, hanem birtokaik a jog szerint és törvényesen, tisztán és egyszerűen, minden ellentmondás nélkül legközelebbi atyafiaikra, nemzetségeikre háramoljanak.” (I. Lajos törvénye)

- a) Melyik évben adták ki a forrásban említett (aláhúzással jelölt) oklevelet és mi volt a neve?**  
(Elemenként 0,5 pont, összesen 1 pont)

év: .....

oklevél neve: .....

- b) Nevezze meg szakkifejezéssel az idézett törvényben szereplő új szabályozást! (0,5 pont)**

.....

- c) Fogalmazza meg az I. Lajos által eltörölt, régebbi szabályozás lényegét! (1 pont)**

.....  
.....

Az I. Lajos által bevezetett új rendelkezés azt a benyomást kelti, mintha elismerné a nemesség érdekeit szolgáló nemzetségi örökösödési rend korlátlan érvényét, holott erről szó sem volt. A rendelkezés tulajdonképpen sértette a nemesség jogait, a király célja ugyanis a királyi birtokállomány utánpótlásának biztosítása volt.

**Magyarázza meg, hogyan csorbította a nemesség jogait az új szabályozás és hogyan biztosította a királyi birtokállomány utánpótlását! (Elemenként 1 pont, összesen 2 pont)**

- d) Az új szabályozás csorbította a nemesség jogait azáltal, hogy .....**

.....

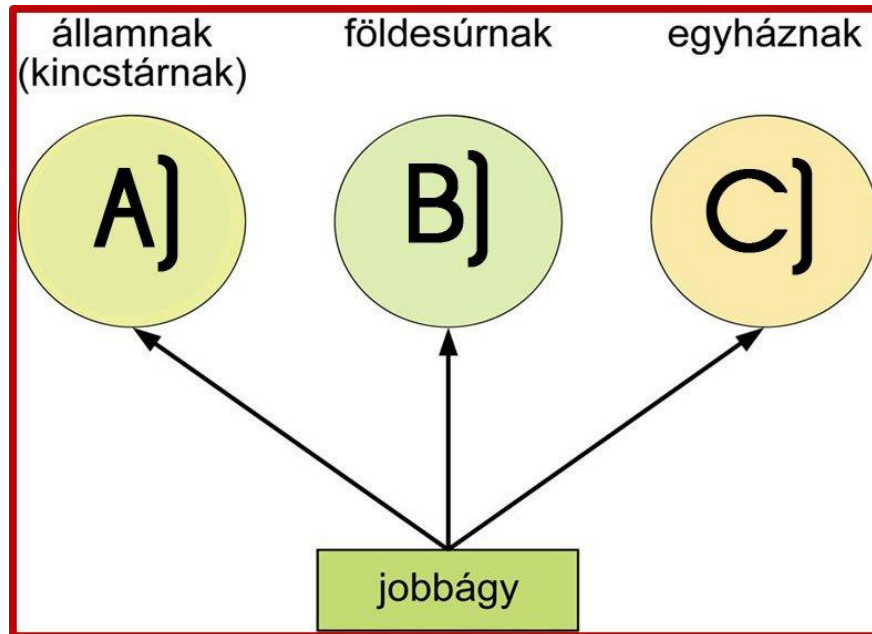
- e) Az új szabályozás biztosította a királyi birtokállomány utánpótlását, mert .....**

.....

- f) Nevezze meg I. Lajos király törvényének kiadási évét! (0,5 pont) .....**



**6. Hogyan helyes a korabeli adózást bemutató ábra? Karikázza be a helyes válasz (a, b, c vagy d) betűjelét! (1 pont)**



- |  |   |  |  |
|--|---|--|--|
| <b>a)</b><br>A) = kapuadó<br>B) = kilenced<br>C) = tized | <b>b)</b><br>A) = füstpénz<br>B) = kilenced<br>C) = tized | <b>c)</b><br>A) = subsidium<br>B) = nyolcvanad<br>C) = harmincad | <b>d)</b><br>A) = tized<br>B) = kilenced<br>C) = nyestbőradó |
|--|---|--|--|

**7. A beszolgáltatott terménynek a kilenced mekkora részét képezte? Karikázza be a helyes válasz betűjelét! (1 pont)**

- |                    |             |             |
|--------------------|-------------|-------------|
| a) kilenced részét | c) felét    | e) harmadát |
| b) tized részét    | d) negyedét |             |

**8. Az alábbi leírások I. (Nagy) Lajos külpolitikai törekvéseiről szólnak. Oldja meg a hozzájuk kapcsolódó feladatot! (Elemenként 0,5 pont, összesen 5 pont)**

**A)** A család Bölcs Róbert halála után megpróbált visszatérni az állam élére, I. Károly kisebb fiát, Andrást jelölte a trónra. Házassága Johannával nem volt sikeres, a királynő férje címmel kellett beérnie. A diplomáciai fáradozások hatására ugyan királlyá koronázták, de végül meggyilkolták.

**B)** Az I. Károly által szervezett királytalálkozón kötött megállapodást III. Kázmér és a magyar uralkodó, melynek révén 1370-ben, Kázmér halála után Nagy Lajos örökölte a trónt. A perszónáluniós kapcsolatnak Nagy Lajos halála után vége szakadt.





**C)** A Kárpátokon túli kun területen a kun és román népcsoportok összeolvadásával jött létre. Nevének eredeti jelentése: 'a hófödte hegyeken túli terület'. Első fejedelme, Basarab sikeresen állt ellen a magyar hódoltató törekvéseknek, ám 1352-ben bekövetkezett halála után Nagy Lajosnak névleg meghódolt a terület.

**D)** Lajos második felesége a nyugat-balkáni magyar hűbéres állam fejedelmének, Kotromanics Istvánnak volt a lánya. Ez a terület kötődött a legszorosabban a magyar királyokhoz, annak ellenére, hogy első királya, I. Tvrtko 1377-ben koronáztatta meg magát.

**E)** Európa utolsó pogány népe ellen III. Kázmér több háborút is indított, amelyben Nagy Lajos személyesen vagy csak seregeivel vett részt. Nagy Lajos fiatalabb leánya, a lengyel trónt öröklő Hedvig végül feleségül ment a pogányról keresztény hitre térő uralkodóhoz, Jagellóhoz.

**F)** A hagyományosan jó kapcsolatokat a magyarországi Anjouk és a pápaság között a nápolyi örökség borította fel. A nápolyi háborúk lezárulta után Nagy Lajos fegyveresei biztosították az avignoni pápaság visszaköltözését Rómába.

**G)** A Dalmácia feletti uralomban ez az állam volt a legnagyobb vetélytársa Magyarországnak. 1356-ban Padovával szövetségben sikerrel védte meg adriai érdekeit Nagy Lajos, a megszülető zárai békében Raguzától (Dubrovniktól) a Kvarner-öböl magyar fennhatóság alá került a tengerpart.

**H)** Az oszmán-török terjeszkedéssel balkáni szerepét megerősítő állam Dusán István alatt élte a fénykorát, aki még cárrá is koronáztatta magát. Az ő halála után a részekre hulló állam nem tudott ellenállni a török előrenyomulásnak, az 1371-es Marica-parti csatában déli része török, északi része pedig magyar fennhatóság alá került.

**I)** Az Arany Horda kivonulása után a Keleti-Kárpátok és a Fekete-tenger közötti területen hatalmi vákuum alakult ki. Az itt létrejövő román állam első előkelői Magyarország területéről érkeztek, de hamar függetlenedtek Nagy Lajostól. A terület később lengyel hűbérbe került.

**J)** 1365 nyarán I. Lajos megtámadta a havasalföldi vajda szövetségesét és megostromolta székhelyét, Sztracimir cárt pedig fogolyként egy szlavóniai várba záratta. Az elfoglalt terület élére magyar kormányzó került, aki a báni méltóságot viselte. Az elfoglalt távoli, ismeretlen területet azonban nem tudta megtartani, néhány évvel később hűbéri esküt vett a korábbi cártól, és visszahelyezte trónjára.

**Rendelje hozzá a fenti források betűjeléhez az I. (Nagy) Lajos külpolitikai törekvéseihez köthető államokat!**

Szerbia, Velencei Köztársaság, Pápai Állam, Bosznia, Bulgária, Lengyel Királyság, Litvánia, Nagyfejedelemség, Havasalföld, Nápolyi Királyság, Moldva




A forrás betűjele	Az ország neve
A)	
B)	
C)	
D)	
E)	
F)	
G)	
H)	
I)	
J)	

9. Melyik alábbi kódexre illene leginkább a „képregény” elnevezés? Karikázza be a helyes válasz betűjelét! (1 pont)



a) Képes Krónika



b) Magyar Anjou Legendárium



c) Thuróczy János: A magyarok krónikája



d) Küküllei János: Krónika Lajos királyról





**10. Ismerje fel a magyarázatokhoz kapcsolódó történelmi fogalmakat! A válaszokat írja a pontozott vonalra! (Elemenként 1 pont, összesen 6 pont)**

- a) .....: Egymástól minden másban független országok kapcsolata, amelyeknek csak az uralkodójuk közös.
- b) .....: Nemesi származású személy, aki már birtokos szolgálatába szegődött, szóbeli megállapodásban vagy szerződésben meghatározott javadalmazás fejében.
- c) .....: A magyarul vendéget jelentő fogalom alatt olyan szabad jogállású személyt értettek, aki arra vállalkozott, hogy más földjén letelepszik, és ezért kiváltságokban és védelemben részesült.
- d) .....: Egy településen élő iparosok és kereskedők által meghatározott szabályok szerint működő érdekvédelmi szervezet.
- e) .....: Az Anjou-királyok alatt létrejött területi kormányzati rendszer, amelyben a király bizonyos királyi javakat nem örökadományul, hanem csak meghatározott időre, a tisztség betöltése idejére adta oda a méltóság-viselőnek. Egyszerre volt hivatal és hivatali birtok is.
- f) .....: A király vagy valamely főúr által kiállított, zászlaja alatt szolgáló és hadba vonuló katonai alakulat.

**11. A feladat Mária királynő hatalomra kerülésével kapcsolatos. Válogassa ki az alább megadott nevekből, évszámokból és fogalmakból a megfelelőt és egészítse ki a szöveget! Vannak oda nem illőek is! Az egyik elemet kétszer kell használni! (Elemenként 0,5 pont, összesen 4 pont)**

..... fiúörökös nélkül halt meg, ezért halála után belviszály kezdődött. Bár idősebb lányát, ..... királynővé koronázták .....-ben, a korabeli felfogás szerint kizárt volt, hogy a nemesség elfogadja egy nő irányítását. A trón tehát ..... jegyesére, a Luxemburg családból származó ..... német fejedelemre várt. A főurak egy másik része azonban nápolyi királyt akart. ..... meg is koronázták, uralma azonban csak 39 napig tartott. A viszály addig fajult, hogy a királynőt és anyját, ..... elfogták, sőt az öreg királynét .....

*elűzték, Ulászló, Nagy Lajos, 1382, Lengyelországba küldték, Mária, Zsigmond,  
(Kis) Károly, Erzsébet, 1342, Hedvig, megölték, Vencel*



**12. Állítsa időrendi sorrendbe a történelmi eseményeket a megfelelő betűjel beírásával!  
Kezdje a legkorábbival! (Elemenként 0,50 pont, összesen 3 pont)**

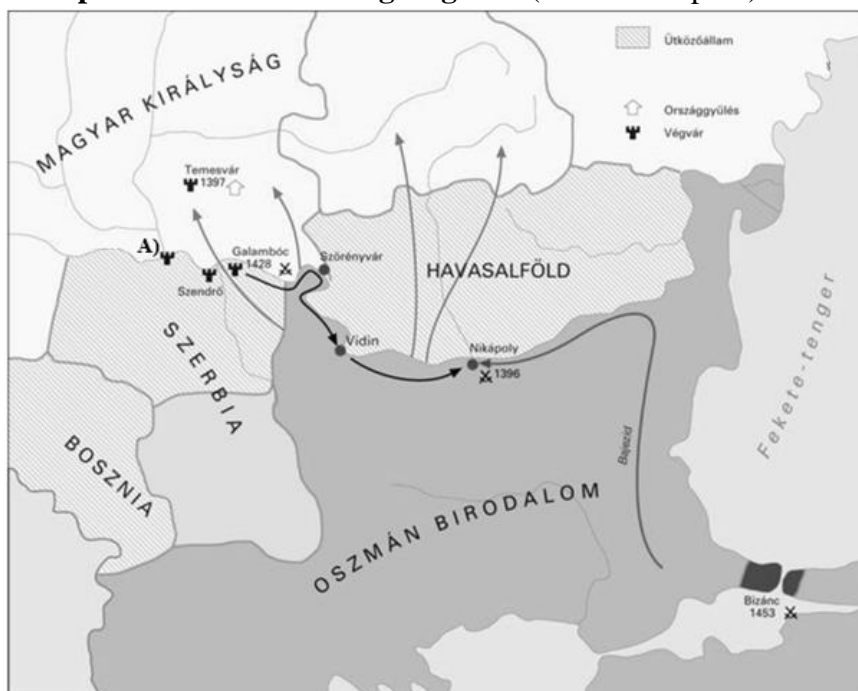
- a) visegrádi királytalálkozó
- b) második nápolyi hadjárat
- c) Károly Róbert harmadszori megkoronázása
- d) I. Lajos lengyel királlyá koronázása
- e) a bárók felkelése Zsigmond ellen
- f) merénylet II. Károly ellen

1. ...., 2. ...., 3. ...., 4. ...., 5. ...., 6. ....

**13. Melyik tisztséget NEM töltötte be az alábbiak közül Luxemburgi Zsigmond? Karikázza be a helyes válasz betűjelét! (1 pont)**

- a) magyar király
- b) német-római császár
- c) lengyel király
- d) cseh király
- e) római király

**14. A feladat Luxemburgi Zsigmond külpolitikájával, a török kérdéssel kapcsolatos. Oldja meg a feladatokat a térkép vázlat és ismeretei segítségével! (Összesen 5 pont)**



*Az Oszmán Birodalom és a Magyar Királyság a 14. század végén és a 15. században  
(A nyilak a magyar, illetve a török seregek mozgását mutatják.)*



a) Karikázza be a következő három forrásrészlet közül annak a sorszámát, amelyik a nikápolyi csatáról szól! (0,5 pont)

1. „Utat-módot keresett [a magyar hadvezér] tehát, miként távolítsa el a nevezett folyók határáról az ellenséges hajókat, hogy fegyveres segítséget vihessen a [magyar vég]várba. Végül hajókat szedett össze, megrakta keresztes népségből való fegyveresekkel, leküldte a Duna folyón az ellenséges hajókkal szembe. [...] A küzdelem keményen folyt [...]. Végre hosszú, fáradságos harc után győztek a magyarok [...]” (Thuróczy János krónikája, 1488)

2. „[A] király, látva, hogy az ellenséges lovasság fut, [...] megrohanta a császár [a szultán] táborát, teljesen meg akarta semmisíteni. A gyalogosok sűrű csapatai közé ért, azoknak a nagy sokasága rárohant, elnyomta őt csapataival együtt: elesett. És ez nem remélt győzelemhez juttatta [...] az ellenséget.” (Thuróczy János krónikája, 1488)

3. „A frankokat [franciákat] féktelen harcvágy fogta el, és [...] kirohantak a táborból, és előreszárgulva rárohantak a szemben álló csapatokra, szokásuk szerint lóról leszállva, gyalogosan harcolva. [...] [A magyarok] nem ismerték harcmódorukat, és azt hitték, hogy az ellenség teljesen elpusztította őket. Egyszerre felbomlott a rend [...] Óriási öldöklés vette kezdetét. És ha a király egy hajón nem lel menedéket, akkor [...] az ellenség fegyveres ereje zúzta volna össze.” (Thuróczy János krónikája, 1488)

b) Melyik akkori és melyik mai ország területén található Nikápoly? (Elemenként 0,5 pont, összesen 1 pont)

akkor: ..... ma: .....

c) Hogyan próbálta Zsigmond megszervezni az ország védelmét a nikápolyi csata után? Írjon le röviden két olyan intézkedést, amelyekre utal a térképvázlat! (Elemenként 1 pont, összesen 2 pont)

.....  
.....

d) Nevezze meg a térképvázlaton az A) betűjellel jelölt végvárat! (1 pont)

.....

e) Nevezze meg azt a várat, amelyről a következő információk szólnak! (0,5 pont)

1426-ban két fontos végvár visszaadására kötelezte magát a szerb uralkodó. A következő évben csak egyet tudott birtokba venni Luxemburgi Zsigmond, a másikat a vár kapitánya eladta a törököknek. Zsigmond sikertelenül próbálkozott a vár visszavételével. Érdekes epizódja a harcoknak, hogy az ostromban tevőleges szerepet vállalt a Zsigmond királyt megmentő temesi ispán felesége, Rozgonyi Istvánné Szentgyörgyi Cecília, akinek hőstettét maga Zsigmond király beszélte el és örökítette meg adománylevelében: „e másoknál bátrabb és kiváló nő egy fölfegyverzett gályára lépve, s félre téve a női nem természetes félénkségét és gyöngeségét, bátor szívvel a Dunán ide-oda evezett, majd az ostromlott várhoz közeledett, s a gályáról ágyúval lövöldöztetett a törökökre.”

(Részlet Luxemburgi Zsigmond adományleveléből a Rozgonyi családnak, 1430)



**15. A feladat Luxemburgi Zsigmond külpolitikájára vonatkozik. Válaszoljon a kérdésekre a szöveg és ismeretei alapján! A kérdések az aláhúzott és betűvel jelölt szövegrészekhez kapcsolódnak.** (Elemenként 0,5 pont, összesen 3 pont)

1400 után Zsigmondot elsősorban a Luxemburgi örökség és a vele járó feladatok foglalkoztatták. Miután 1410-ben mint IV. Károly fiát a Német-római Birodalom fejévé választották, az akkori Európa két legnagyobb problémájával találta magát szembe. (a) E feladatokkal az egyetemes zsinatnak (1414-1418) (b) kellett megbirkóznia. Munkálatain hivatalból Zsigmond elnökölt. (c) Négy év után sikerült elérnie, hogy újra egyetlen pápa állt a római egyház élén. A zsinatot beárnyékolta a cseh pap, előreformátor kivégzése. (d) A kivégzés következményeként Csehországban véres polgárháború tört ki, amely az évek során áterjedt a környező országokra, így Magyarországra is. A felkelők hadi taktikájában nagy szerepet játszott a szekerekkel körülvett tábor (e). Ilyenbe barikádozták el magukat az Alparét melletti Bábolna-hegyen az erdélyi lázadás parasztfelkelői is.

**a) Nevezze meg a korabeli Európa egyik jelentős vallási problémáját!** (0,5 pont)

.....

**b) Nevezze meg, melyik városban zajlott a zsinat, és határozza meg, melyik mai ország területén található a város!** (Elemenként 0,5 pont, összesen 1 pont)

város: .....; mai ország: .....

**c) Mely tisztsége révén elnökölt Zsigmond hivatalból a zsinaton?** (0,5 pont)

.....

**d) Nevezze meg a cseh papot, előreformátort!** (0,5 pont)

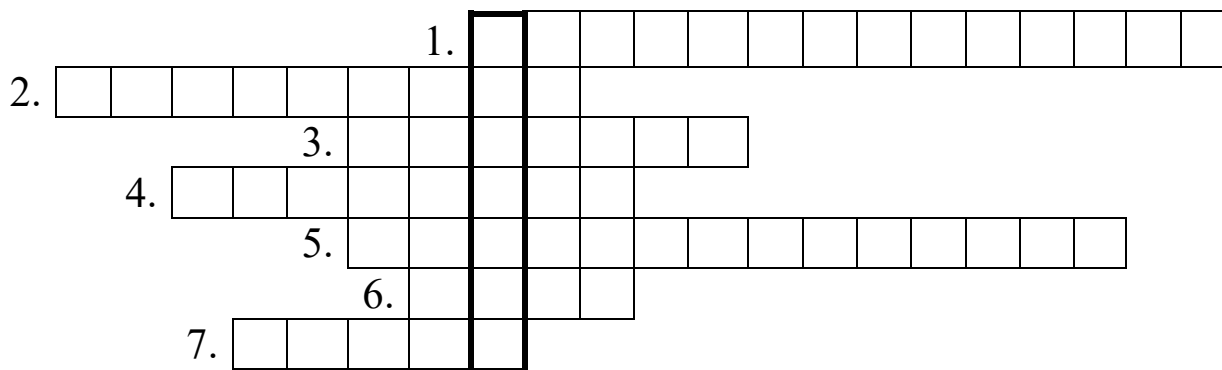
.....

**e) Nevezze meg a szekerekkel körülvett tábort!** (0,5 pont)

.....



**16. Oldja meg az 1437-es erdélyi parasztfelkeléssel kapcsolatos keresztrejtvényt, majd írja a helyes válaszokat és a megfejtést a pontozott vonalakra! A kettős betűk tagjai külön négyzetbe kerülnek (pl. a ZS betű két külön négyzetbe kerül: Z+S). (Elemenként 1 pont, összesen 8 pont)**



1. A felkelők élére állt kisnemes neve: .....
2. Erdélyi város, mely a felkelők oldalára állt és megtorlásul, egy időre, elvesztette kiváltságait: .....
3. Földesúri joghatóság alatt álló, a földesúrnak, az egyháznak és az uralkodónak adókkal és szolgáltatásokkal tartozó paraszt:.....
4. Az ő uralkodása alatt robbant ki az erdélyi parasztfelkelés: .....
5. A parasztlázadás során megkötött béke helyszíne:.....
6. Az erdélyi nemesség, a szászok és a székelyek közösségei által kötött egyezség: .....
7. Az erdélyi parasztlázadás elfogott vezéreinek kivégzési helyszíne: .....

A megfejtés: .....





17. Társítsa a képeken látható magyar kulturális emlékeket Anjou és Luxemburgi uralkodóinkkal! Írja a jellemzés betűjelét a táblázat megfelelő uralkodójához! (Elemenként 0,5 pont, összesen 6 pont)



A) a zárai Szent Simeon-ereklyetartó



B) az országalma




C) a diősgyőri vár



D) a tatai vár



E) palástkapcsok az aacheni kincsegyüttesből



F) címeres kályhacsempe



G) aranyforint



H) Szent László hermája

I. Károly	I. (Nagy) Lajos	Luxemburgi Zsigmond



**18. Válassza szét, melyik királyunkhoz köthetőek az alábbi kijelentések! Írja a jellemzés betűjelét a táblázat megfelelő uralkodójához! Kettőt két helyre is be kell írjon!**

(Elemenként 0,5 pont, összesen 6 pont)

I. Károly	I. (Nagy) Lajos	Luxemburgi Zsigmond

A. Lengyel trónöröklési szerződést kötött.

B. Özvegyének a hívei merényletet követnek el II. (Kis) Károly ellen.

C. Havasalföldi hadjáratában vereséget szenved Posada-nál.

D. Lovagrendet alapított.

E. Két hadjáratot vezetett Nápolyba András herceg meggyilkolása miatt.

F. Feleségül vette Mária királynőt.

G. Egyetemet alapított.

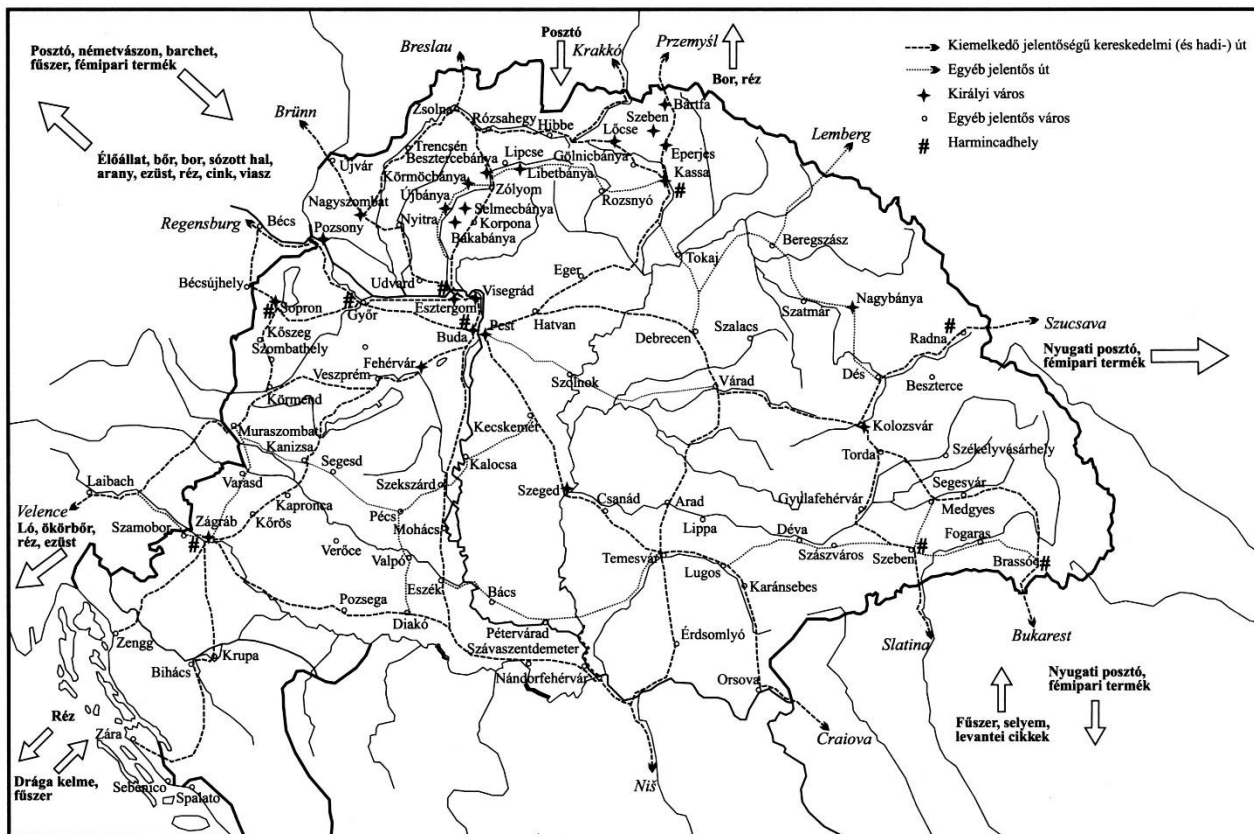
H. Törvényt adott ki a királyi városok és a pénzügyek szabályozására („városi dekrétum”).

I. Remete Szent Pál testét Magyarországra szállíttatta.

J. Megszerzi Nándorfehérvárt.



19. Írjon rövid értekezést (1,5-2 oldal terjedelemben) a térkép és az idézet segítségével a magyar Anjou királyok és Luxemburgi Zsigmond várospolitikájáról! (15 pont)



Kereskedelem és városhálózat a XIV. századi Magyarországon

„Az Anjouk és Zsigmond kora meghatározó jelentőségű Magyarország gazdasági fejlődésében. 1323 és 1437 között az ország képe olyan mérvű átalakuláson ment át, amelyhez fogható a 18. századig nem következett. Legnyilvánvalóbb jele a változásnak a városok szaporodása és rohamos megerősödése. 1240 táján alig volt az országban olyan település, amelyet nyugati szemmel is városnak lehetett volna minősíteni; kétszáz év múlva több tucat volt belőlük. (...) A jólétről, amelyet a városok a korszak végére elértek, ma is tanúskodnak ekkor épült lakóházaik, plébániaegyházaik és kolduló rendi templomaik.” (Engel Pál, *Szent István birodalma*)

.....

.....

.....

.....

.....



MINISTERUL EDUCAȚIEI

[illegible]



MINISTERUL EDUCAȚIEI

This image shows a full page of white paper with horizontal dotted lines. The lines are evenly spaced and run across the width of the page, providing a guide for handwriting practice. There are no margins, text, or other markings on the page.